

令和3年度

一般入学 学力検査

検査1 社 会

9：20～10：10

注 意

- 1 監督の先生の指示があるまで、開いてはいけません。
- 2 問題は、7ページあります。
- 3 「開始」の合図があったら、はじめなさい。
- 4 答えは、すべて、解答用紙に記入しなさい。
- 5 解答用紙の※印の欄には、何も記入してはいけません。
- 6 「終了」の合図で、すぐ筆記用具をおき、解答用紙を裏返しにしなさい。
- 7 その他、監督の先生の指示に従いなさい。

龍谷富山高等学校

1 龍太さんは、東北地方の学習のまとめをした。次の資料1～資料3は、その時に作成したものの一部である。これらを見て、あとの問いに答えなさい。

資料1

三陸海岸南部には、(a)のこぎりの歯のような複雑な海岸線となっている地域がみられる。
 (b)地域によって気候の特徴が異なっている。太平洋側は(c)ヤマセと呼ばれる風がふく。
 生活の中で伝統的な行事が受け継がれている。
 (d)古くからの産業を受け継いでいる一方で、(e)新しい産業が発達している地域もある。

(1) (a)のこぎりの歯のような複雑な海岸線の多くは、天然の良港として利用されている。このような海岸を何というか、書きなさい。

(2) (b)地域によって気候の特徴が異なっていることについて、日本海側が豪雪地帯である理由を、資料2を参考に次の語句を必ず使い、簡単に説明しなさい。

[日本海 奥羽山脈 季節風]

(3) (c)ヤマセと呼ばれる風がふくことと「ひとめぼれ」などの銘柄米の開発とは関連が深い。その理由を簡単に説明しなさい。

(4) (d)古くからの産業として、伝統的工芸品がある。資料3の山形県の [X] に入る伝統的工芸品を、次のア～エから1つ選び、記号を書きなさい。

- ア 大島つむぎ イ 西陣織
- ウ 雲州そろばん エ 天童将棋駒

(5) (e)新しい産業として、1980年代から工業団地が東北地方の各地につくられた。主にどのような場所につくられたか、最も適切なものを次のア～エから1つ選び、記号を書きなさい。

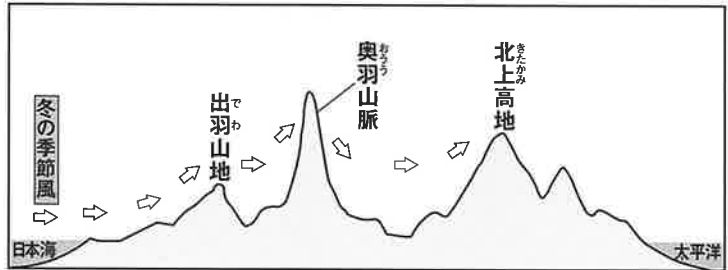
- ア 人口は少ないが、電力が豊富な水力発電所の付近
- イ 交通の便がよい高速道路の沿線
- ウ 資源豊富な鉱山がある山間地域
- エ 年間降水量が1000mm未満で、夏の平均気温が20℃を超えない地域

(6) 宮城県にあてはまるものを、資料3の県A～Eから、また地図中のF～Kから1つずつ選び、それぞれ記号を書きなさい。

(7) 地図中の緯線Yに最も近い緯度に位置している都市を、次のア～エから1つ選び、記号を書きなさい。

- ア シドニー イ モスクワ ウ ローマ エ カイロ

資料2

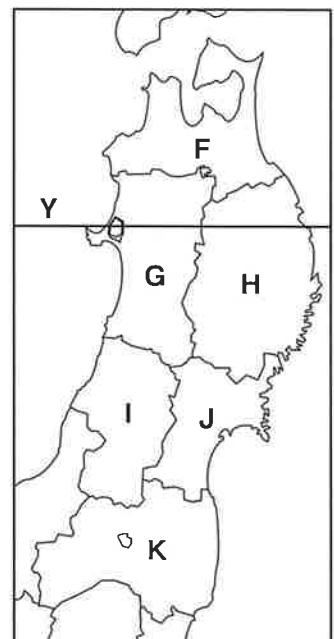


資料3

県	人口 (万人) 2018年	面積 (km ²) 2018年	農業産出額 (億円) 2015年	工業出荷額 (億円) 2014年	伝統的 工芸品
A	130	9,646	3,068	16,031	津軽塗
B	126	15,275	2,494	22,843	桐たんす
C	231	7,282	1,741	39,880	こけし
D	101	11,638	1,612	12,249	樺細工
山形	110	9,323	2,282	26,237	[X]
E	191	13,784	1,973	51,247	会津塗

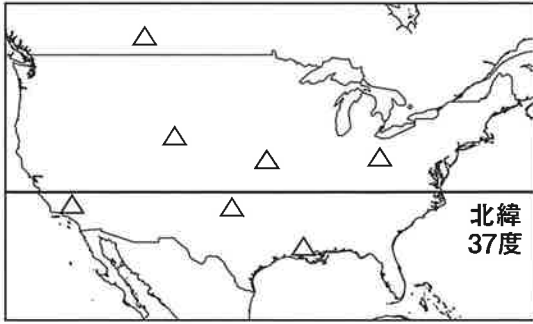
(〔中学校社会科地図〕帝国書院より作成)

地図



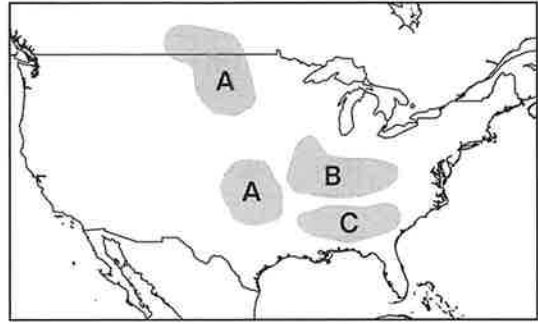
2 アメリカ合衆国について、あとの問いに答えなさい。

地図1



(「Goode's World Atlas」ほかより作成)

地図2



(「Goode's World Atlas」ほかより作成)

(1) 地図1中の北緯37度線より南の地域には、先端技術産業が発達している。この地域を何というか、書きなさい。

(2) 地図1中の△では、ある資源が産出される。その資源は何か、資料1を参考にして、次のア～エから1つ選び、記号を書きなさい。

ア 天然ガス イ 原油 ウ 鉄鉱石 エ 石炭

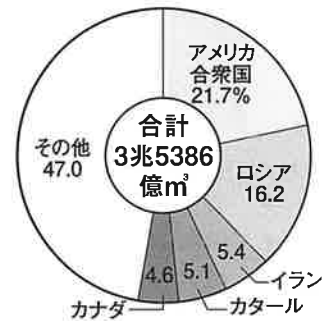
(3) 地図2中のA, B, Cの地域では、ある農作物が主に栽培されている。その組み合わせとして、最も適切なものを次のア～エから1つ選び、記号を書きなさい。

ア A：小麦 B：綿花 C：とうもろこし
 イ A：小麦 B：とうもろこし C：綿花
 ウ A：綿花 B：小麦 C：とうもろこし
 エ A：綿花 B：とうもろこし C：小麦

(4) 資料2は、アメリカ合衆国の人種・民族構成を示したものである。[X]にはスペイン語を話す中南アメリカからの移民が入る。その名称を書きなさい。

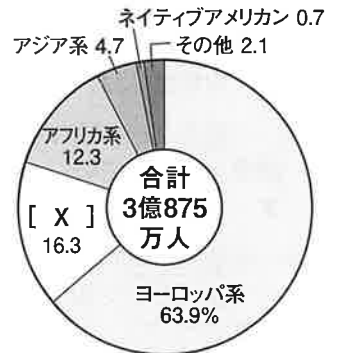
(5) 資料3は、アメリカ合衆国の日本との貿易額を品目別に示したものである。[Y]に入る貿易品を書きなさい。

資料1 △の国別生産量



(「BP 資料」2015より作成)

資料2 アメリカ合衆国の人種・民族構成

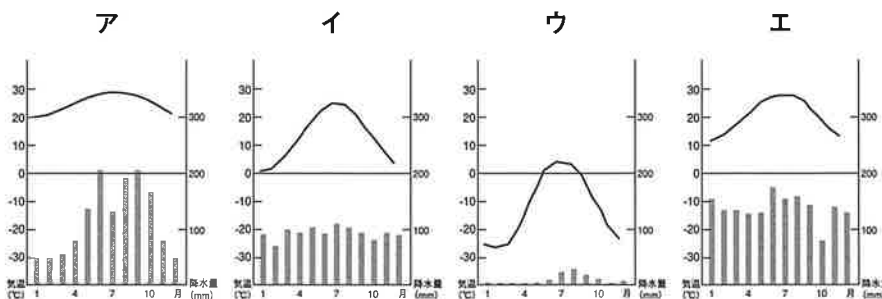


(「US Census 2010」より作成)

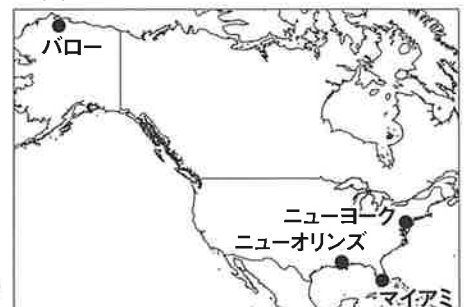
資料3 アメリカ合衆国の対日貿易 2015年



(6) 次の雨温図は、マイアミ、ニューヨーク、ニューオリンズ、バローのものである。地図3を参考にニューヨークの雨温図を、次のア～エから1つ選び、記号を書きなさい。



地図3



3 次のカード①～カード⑤は、真紀さんが日本の農業について調べた内容をまとめたものである。これらと資料を見て、あとの問いに答えなさい。

カード①




(a)この人物は、ものさしやますを統一するとともに、太閤検地を行い、全国の田畑の面積や収穫量を調べ、耕地ごとに農民を登録した。

カード②



この人物は、(b)享保の改革を行い、年貢の取り立て方法を変更したり、新田の開発を進めるなど、米の値段の安定に努めた。

カード③



この写真は、稲の穂を収穫するために使われた石包丁である。(c)稲作と同時期に朝鮮半島などから九州北部に伝えられた。

カード④



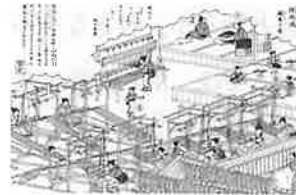
この写真は、平城京で見つかった木簡である。木簡には、(d)農民が負担した税について記録されていた。

カード⑤



この写真は、正長元年におきた土一揆についての碑文である。団結を固めた農民が、(e)幕府に借金の帳消しなどを要求した。

資料



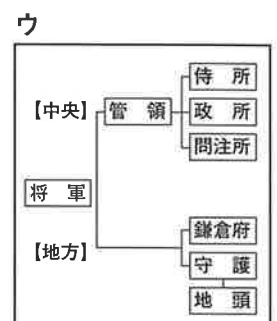
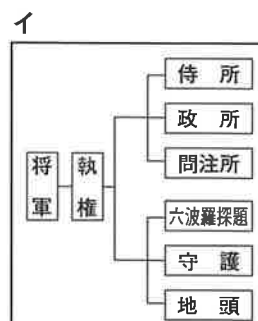
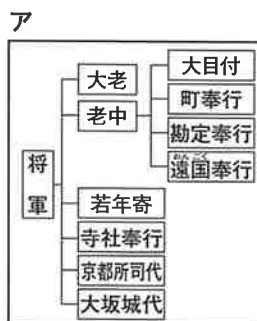
- (1) (a)この人物が政治を行った頃の文化について、次のア～エから適切なものを1つ選び、記号を書きなさい。
- ア 貴族たちに浄土信仰が流行し、平等院鳳凰堂などの阿弥陀堂が作られた。
 - イ 観阿弥・世阿弥親子は猿楽や田楽を能として大成し、武家の保護を受けた。
 - ウ 町人を担い手とする文化が栄え、井原西鶴は武士や町人の生活をもとに浮世草子の作品を書いた。
 - エ 千利休は、内面の精神性を重視し、質素なわび茶の作法を完成させた。
- (2) 資料は、問屋制家内工業から発展した生産方法のようすが描かれたものである。この生産方法を何というか、その名称を書きなさい。
- (3) (b)享保の改革より前のできごととして、適切なものを次のア～エから1つ選び、記号を書きなさい。
- ア 水野忠邦は、株仲間の解散や出版の統制などを行い、幕府の權威を立て直そうとした。
 - イ 尊王攘夷運動がさかんになり、井伊直弼は幕府の政策に反対した大名や武士を処罰した。
 - ウ 新井白石は、貨幣の質を元に戻す一方、金銀が海外に流出することを防ぐため、貿易額を制限した。
 - エ 田沼意次は、株仲間の奨励や長崎貿易の拡大などを実施したが、地位や特権を求めてわいろが横行した。
- (4) (c)稲作と同時期に朝鮮半島などから日本へ伝わったものとして、最も適切なものを次のア～エから1つ選び、記号を書きなさい。
- ア 銅鏡 イ 和同開珎 ウ 土偶 エ 仏教
- (5) (d)農民が負担した税は、大宝律令によって定められた。次の文は大宝律令による全国を支配するしくみについて述べた文である。文中の [X]、[Y] に入る語句をそれぞれ書きなさい。

6年ごとにつくられる戸籍にもとづいて、6歳以上の男女に [X] と呼ばれる土地が与えられる。また、成人男性は [Y] ・庸と呼ばれる税を自分たちで都まで運んで納めた。

(6) 次のア～ウの図は、鎌倉幕府、室町幕府、江戸幕府のいずれかの政治組織をまとめたものである。このうち

カード⑤における(e)幕府の政治組織として適切なものを1つ選び、記号を書きなさい。また、その図が適切であると考えた理由を簡単に説明しなさい。

(7) カード①～カード⑤を年代の古い順に並べかえ、番号を書きなさい。



4 次の年表は、近現代における日本のマスメディアの発達に関するできごとをまとめたものである。これと資料1～資料4を見て、あとの問いに答えなさい。

年表

年	できごと
1875	新聞紙条例が制定される…………… ①
1904	与謝野晶子が文芸誌に詩を発表する…………… ②
1916 ← A	[Y] が雑誌に「民本主義」を発表する…………… ③
1925 ← A	日本でラジオ放送が開始される
1928 ← B	衆議院議員選挙の速報がラジオで放送される…………… ④
1945 ← B	天皇がラジオ放送で終戦を伝える
1953 ← B	日本でテレビ放送が開始される
1964	東京オリンピックがテレビで中継される…………… ⑤

資料1



資料2

ああをとうとよ君を泣く
君死にたまふことなけれ

(1) 年表中の①に関して、次の文はこの条例が制定された目的について述べたものである。資料1を参考に文中の [X] に入る語句を書きなさい。

政府は、立憲政治の実現を目指す [X] 運動の集会や言論を取り締まろうとした。

(2) 年表中の②に関して、資料2は、与謝野晶子が戦争に出兵する弟を思って発表した詩の一部である。この頃の日本と外国の間に起こったことについて述べた文として、適切なものを次のア～エから1つ選び、記号を書きなさい。

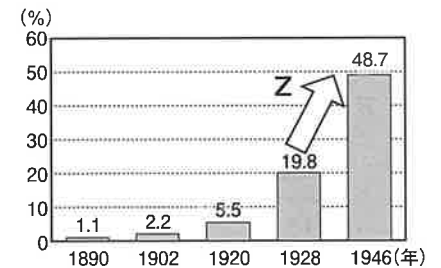
- ア シベリア出兵をきっかけとした米の買い占めから、米騒動が起こった。
- イ 朝鮮戦争が始まり、軍事物資が日本で調達され、日本経済は好景気となった。
- ウ ポーツマス条約で得た利権をもとに、日本は南満州鉄道株式会社を設立した。
- エ 日ソ中立条約を結び、フランス領インドシナ南部を占領した。

(3) 年表中の③の [Y] に入る人物名を書きなさい。

(4) 年表中のAの時期の社会のようすについて説明したものを、次のア～エから1つ選び、記号を書きなさい。

- ア 全国水平社が結成され、部落差別からの解放を目指す運動が全国に広がった。
- イ 外国人を招いた舞踏会などの社交場として、鹿鳴館が建てられた。
- ウ 政府が地主の小作地を買い上げ、小作人に安く売りわたしたため、多くの自作農が生まれた。
- エ 冷蔵庫、洗濯機などの家庭電化製品が普及し、人々の暮らしが便利になった。

資料3 衆議院議員総選挙における総人口に占める有権者の割合の推移



(総務省統計局資料から作成)

(5) 年表中の④に関して、資料3は衆議院議員選挙における全人口に占める有権者の割合の推移を表したものである。資料3中のZの変化について、有権者の割合が増加した理由を、有権者の資格に着目して、簡単に説明しなさい。

(6) 年表中のBの時期に日本で起こったことについて、次のア～エの説明文を年代の古い順に並べかえ、記号を書きなさい。

- ア 国家総動員法が制定され、政党は解散して大政翼賛会が結成された。
- イ 満州国を独立国として承認しないという国際連盟の決議に抗議し、国際連盟を脱退した。
- ウ 国民主権、基本的人権の尊重、平和主義を基本原理とする日本国憲法が公布された。
- エ 連合軍からのポツダム宣言を受け入れることを決めた。

資料4



(7) 年表中の⑤に関して、資料4は東京オリンピックを記念して、沖縄で発行された切手である。この切手からもわかるように、当時の沖縄では外国の通貨単位 (¢セント) が使用されていた。その理由を簡単に説明しなさい。

5 昭夫さんと和子さんの班は、地元の商店街でインタビューを行い、商店街の活性化案を話し合った。次の文章は、その時に使用したものの一部である。これらと資料1～資料2を見て、あとの問いに答えなさい。

【洋菓子店へのインタビュー】

昭夫：お店の一番人気のケーキは何ですか。
 店長：いちごを使ったケーキです。(a)いちごの価格は季節によって変わりますが、ケーキに使ういちごの量を減らさないよう努力しています。
 昭夫：お店の経営や、商店街の様子で気になっていることはありますか。
 店長：(b)経営状態が景気に左右されることが悩みです。あとは、商店街を訪れる人が減少していることが心配です。

【コーヒー店へのインタビュー】

和子：お店のこだわりは何ですか。
 店主：たくさんの種類の豆を扱うようにしています。産地によって香りも味も微妙に変わるんです。
 和子：お店の経営で困っていることはありませんか。
 店主：うちの店は外国からコーヒー豆を輸入し、販売していますが、最近 [A] がすすんで、仕入れ価格が上がり、困っています。
 和子：ほかに心配ごとはありませんか。
 店主：本当のことを言うと、私たちも年なので、だれか後を継いでほしいと思っているのですが、(c)息子たちも独立して別々に住んでいるのでうまくいきません。

【昭夫さんと和子さんのメモ】

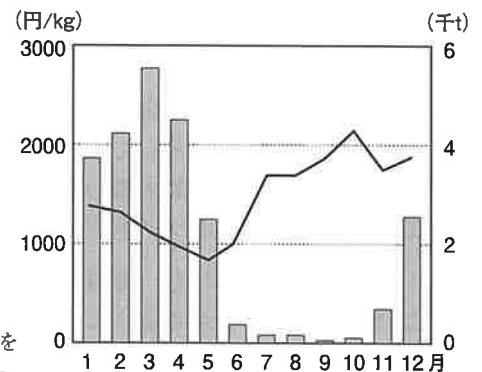
- お店へのインタビューでわかったこと
 - ・店ごとに特色を出した経営をしていること。
 - ・商店街を訪れる人の数が、減少している。
 - ・店の経営状態は、景気や為替相場、(d)税制の影響を受けている。
 - ・後継者問題に悩んでいる。
- 商店街の活性化案
 - ・ホームページの開設やイベントの開催を積極的に行う。
 - ・銀行からお金を借りるなど [B] 金融を利用したり、県や市の補助金を申請したりして必要な資金を集める。

- (1) [A], [B] に入る語句の組み合わせとして、適切なものを次のア～エから1つ選び、記号を書きなさい。
 ア A：円高 B：直接 イ A：円高 B：間接 ウ A：円安 B：直接 エ A：円安 B：間接
- (2) (a)いちごの価格は季節によって変わりますに関して、次の文章を読んであとの問いに答えなさい。

資料1の1月～11月を見ると、一般的にいちごの入荷量が多い時期は、価格が [C] くなっている。12月は、11月に比べ、いちごの入荷量が多くなっているにもかかわらず、価格は [D] くなっている。この理由として [E] ことが考えられる。

- ① [C], [D] に入る語句の組み合わせとして、適切なものを次のア～エから1つ選び、記号を書きなさい。
 ア C：高 D：高 イ C：高 D：低
 ウ C：低 D：高 エ C：低 D：低
- ② [E] に入る文を、次の語句を必ず使い、簡単に説明しなさい。
 [需要 供給]

資料1 イチゴの価格と入荷量



(注) 棒グラフは入荷量を、折れ線グラフは価格をそれぞれ示している。

- (3) (b) 経営状態が景気に左右されるに関して、不況の時に企業が一般的に行う取り組みとして、最も適切なものを次のア～エから1つ選び、記号を書きなさい。
- ア 従業員の数を増やす。
 - イ 商品の生産を減らす。
 - ウ 従業員の給料を上げる。
 - エ 商品を値上げして販売する。
- (4) (c) 息子たちも独立して別々に住んでいるについて、日本の人口推移は、人口の増減のほかにも家族のあり方にも大きく影響を与えている。資料2から考えられる人口と家族のあり方について、適切なものを次のア～エから1つ選び、記号を書きなさい。
- ア 年度がすすむにつれて、世帯数が増加しており、大家族の世帯が増えた。
 - イ 年度がすすむにつれて、一世帯当たりの人数が減少しており、核家族化が進んだ。
 - ウ この4つの年度で最も日本の総人口が多かったのは、1970年度である。
 - エ 1950年と2010年を比較すると同居していると考えられる人数は2010年が1950年の2倍以上になっている。
- (5) (d) 税制について、商品やサービスの価格に含まれ2019年から食料品などの一部を除いて10%に引き上げられた国税は何か、名称を書きなさい。

資料2

年	世帯数 (千世帯)	1世帯あたりの人数 (人)
1950	16,580	5.02
1970	30,374	3.45
1990	41,036	3.01
2010	51,951	2.46

(「数字でみる日本の100年」改訂第6版より作成)

6 次の文章は、太郎さんが国民の政治参加と人権を守る意味について発表するために作成した原稿の一部である。これらと資料を見て、あとの問いに答えなさい。

【国民の政治参加】

国民が政治参加する方法には、様々なものがある。まず、選挙によって、自分の考えに近い候補者に投票し、その(a)代表を通じて政治に参加する方法である。また、自分の意見を表明し、ほかの人の賛同を得て、(b)世論を形成したり、(c)国民の権利を行使して、自分の意思を示すことも政治参加の一つである。多様な方法がある中で(d)政治へのかかわり方を自分で選択していくことが求められている。

【人権を守る意味】

日本国憲法によって、様々な権利が基本的人権として保障されている。たとえば、すべての人は平等な取り扱いを受ける(e)平等権、自由に物事を考え、行動することを保障する自由権、人間らしい豊かな生活を保障する(f)社会権などがある。また、社会の変化によって憲法に直接規定されていない権利も(g)「新しい人権」として認められてきている。このような基本的人権は、国民のたえまぬ努力によって保持されなければならない。

- (1) (a)代表について、国の政治においては、衆議院と参議院の二院で構成し、それぞれ代表を選出している。衆議院と参議院の違いについて述べた文のうち、適切でないものを次のア～エから1つ選び、記号を書きなさい。
- ア 衆議院議員の議員数は、参議院議員の議員数よりも多い。
 - イ 衆議院には解散があるが、参議院には解散がない。
 - ウ 国政に関して調査する国政調査権は、衆議院には認められているが、参議院には認められていない。
 - エ 予算や条約、法律の制定に際して、「衆議院の優越」が認められている。

(2) (b)世論を形成するうえで国や地方公共団体が持っている情報を得ることが重要である。これらの情報を得るために国や地方公共団体に対して情報の開示を求める制度を何というか、書きなさい。

(3) (c)国民の権利の一つとして、国や地方公共団体に対して、損害の救済や、公務員の罷免、法律や命令などの制定廃止などを平穏に求める権利がある。この権利を何というか、書きなさい。

(4) (d)政治へのかかわり方について、資料から読み取れることを述べた文として、適切なものを次のア～エから1つ選び、記号を書きなさい。

- ア 年齢層が上がるほど、関心があった人の割合と投票参加率は、どちらも高くなる。
- イ いずれの年齢層でも、関心のなかった人の割合よりも、投票参加率の方が高い。
- ウ わからないと回答した人の割合が高い年齢層ほど、他の年齢層よりも投票参加率が低い。
- エ 関心があった人の割合が半数以上を占める年齢層は、投票参加率が6割を超えている。

資料 第48回衆議院議員総選挙の世代別の選挙関心度と投票参加率(2018年)

	選挙関心度 (%)			投票参加率 (%)
	あった	なかった	わからない	
60歳代	81.9	17.6	0.5	84.6
50歳代	69.7	28.8	1.5	74.0
40歳代	57.3	40.6	2.1	61.4
30歳代	51.7	46.2	2.1	61.0
20歳代	42.0	56.4	1.6	54.6
18・19歳	41.2	58.8	0.0	55.9

(注)「投票参加率」は、この調査で「投票に行った」と回答した人の割合で、全国の投票率とは異なる。

(「第48回衆議院議員総選挙全国意識調査より作成」)

(5) (e)平等権について、国際化が進み、日本に住む外国人が増加する一方、言葉や文化の違いによって不自由な境遇に置かれている人々も多い。このような状態を解消する試みとして、言語や文化、国籍にかかわらず利用できる施設や製品のデザインを何というか、書きなさい。

(6) (f)社会権について、憲法では、「健康で文化的な最低限度の生活を営む権利」を保障している。この考え方に基づいて、働くことができず、収入がなくなった人に対して生活に必要な費用を支給することとなっている。このことを定めた法律を何というか、書きなさい。

(7) (g)「新しい人権」について、人はだれでも私生活において他人に知られたくない秘密をもっており、個人の私生活に関する情報を公開されない権利がある。このような権利を何というか、適切なものを次のア～エから1つ選び、記号を書きなさい。

- ア プライバシーの権利
- イ 自己決定権
- ウ 知る権利
- エ 環境権